

# 贵阳市 2019 年初中毕业生学业（升学）考试试题卷

## 综合文科（开卷）

同学你好！答题前请认真阅读以下内容：

1. 本卷为道德与法治学科、历史学科合卷，全卷共 8 页，共 39 小题，满分 150 分，其中道德与法治学科 75 分，历史学科 75 分。答题时间 120 分钟。考试形式为开卷。
2. 第 1—15 小题为道德与法治学科试题；第 16—33 小题为历史学科试题；第 34—39 小题为道德与法治学科试题。
3. 一律在答题卡相应位置作答，在试卷上答题视为无效。

### 第 I 卷（选择题 共 60 分）

一、请你选择：本大题第 1—15 小题为道德与法治学科选择题，每小题 2 分，共 30 分；第 16—30 小题为历史学科选择题，每小题 2 分，共 30 分。下列各题的备选答案中，只有一项是正确或符合题意的答案。

1. “一分钟，333 万元投入研究和实验；一分钟，生产汽车 55 辆；一分钟，5288 万元货物进出口；一分钟，创造 GDP1.57 亿元……”中国的每一分钟都在发生巨大的改变，这是改革开放四十年成就的中国奇迹。这一中国奇迹使我们更加坚信
  - A. 改革开放使中国跨入发达国家行列
  - B. 改革开放使中国基本实现了现代化
  - C. 改革开放推动中国踏上了强国之路
  - D. 改革开放实现了中华民族伟大复兴
2. 近十年来，华为在无线芯片上的投入累计超过 10 亿美元，自主研发的海思芯片成为华为最大的底气。华为向世界证明：世界还是那个世界，可是中国已经不是原本的中国。今天的中国
  - A. 仍面临着创新能力不强的问题
  - B. 已实现了颠覆性技术的自主创新
  - C. 形成了有利于创新的治理格局
  - D. 坚定不移地走中国特色创新道路
3. 第十三届全国人民代表大会代表分别来自各省、自治区、直辖市和军队 35 个选举单位，其中一线的工人、农民代表 468 名（含 45 名农民工代表），专业技术人员代表 613 名，妇女代表 742 名。从人大代表的组成可以看出社会主义民主具有
  - A. 广泛性
  - B. 真实性
  - C. 集中性
  - D. 权威性
4. 《2017 中国禁毒报告》显示，2016 年公安机关共破获毒品刑事案件 14 万起，抓获毒品犯罪嫌疑人 16.8 万名，缴获各类毒品 82.1 吨；共破获制毒物品犯罪案件 449 起，缴获制毒物品 1584.6 吨。以上材料体现出在建设法治中国的进程中
  - A. 立法得到人民群众的拥护
  - B. 严格执法得到有力保证
  - C. 司法案件体现了公平正义
  - D. 公民成为法治的捍卫者
5. 2018 年中秋佳节，在瑞士“庆中秋——遇见中国”大型中国文化宣传活动中，中国传统文化和民间技艺的独特魅力让外国朋友叹为观止。中华优秀传统文化的独特魅力源于
  - A. 中华文化历经沧桑，全然改变
  - B. 中华文化宣传到位，噱头很多
  - C. 中华文化源远流长，博大精深
  - D. 中华文化始终不变，不惧挑战

6. 图①的漫画警示我们

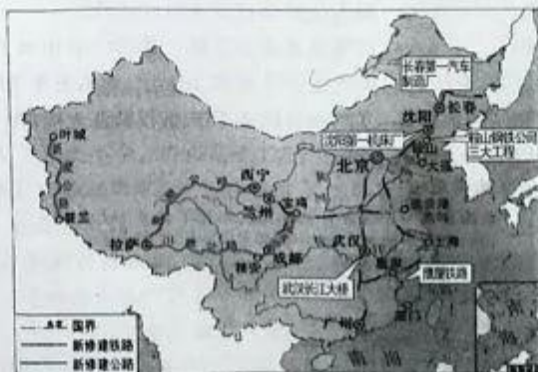
- A. 环保问责应着重关注经济指标的达成
- B. 要处理好经济发展和环境污染的关系
- C. 经济发展快可以掩盖环境污染的问题
- D. 以牺牲环境来换取经济发展是可行的



图①

7. 2018年10月23日港珠澳大桥正式开通。大桥总长约55公里，是粤港澳三地首次合作共建的超大型跨海交通工程。大桥将香港、澳门和祖国内地紧密地连接在一起，将更好地促进香港、澳门的繁荣昌盛。大桥的建成再一次体现了
- A. “一国两制”实践取得举世公认的成功
  - B. 祖国实现了完全统一和民族伟大复兴
  - C. 港、澳和祖国内地一起实现了共同富裕
  - D. “一国两制”实现了港澳门的完全自治
8. 中国特色社会主义进入了新时代：一个个非凡的超级大工程，一项项里程碑般的科研成果，一个个惠民工程……祖国的卓越成就告诉我们，中国梦就要成真。中国梦就是
- A. 基本实现社会主义现代化
  - B. 实现由温饱到小康的跨越
  - C. 实现了由站起来到富起来
  - D. 实现中华民族的伟大复兴
9. 2018年11月在上海举办的首届以进口为主题的中国国际进口博览会，相当于在家门口为外商设摊，开了一个“全球超市”，让中国企业和消费者“买全球”。“全球超市”“买全球”表明
- A. 中国已成为世界贸易的中心
  - B. 商品贸易在全球范围内进行
  - C. 中国人更喜欢购买外国产品
  - D. 经济全球化完全改变了生活
10. 一张3岁叙利亚小男孩伏尸沙滩的照片背后，是小男孩一家四口躲避、逃离战火和他母亲、哥哥不幸溺亡的故事。除了小男孩一家，还有超过300万的叙利亚难民在战火纷飞中流离失所。小男孩一家与叙利亚难民的遭遇告诉我们
- A. 战争代价沉重，我们要珍惜和平
  - B. 战争与冲突已成为当今时代的主题
  - C. 第三次世界大战即将要全面爆发
  - D. 恐怖主义成为威胁和平的重要因素
11. 共建“一带一路”，源于中国而属于世界，为世界经济增长开辟了新空间，为增进各国民生福祉作出了新贡献。它在解决中国发展问题，也在解决世界发展问题。共建“一带一路”的巨大影响展现出中国
- A. 对世界发展起到了决定性的作用
  - B. 在世界经济领域合作中独占鳌头
  - C. 在国际事务中贡献智慧提供方案
  - D. 对其他国家开展人道主义的援助
12. 习近平总书记曾说，中国经济是一片大海，而不是小池塘。大海有风平浪静之时，也有狂风骤雨之时。狂风骤雨可以掀翻小池塘，但不能掀翻大海。下列选项属于习近平总书记所指的“狂风骤雨”的是
- A. 复杂多变的国际形势
  - B. 和平与发展的时代潮流
  - C. 综合国力的日益增强
  - D. 中国国际影响力的提升

13. 2018 年第二十一届俄罗斯世界杯上,首次出现中国护旗手——来自贵州省丹寨县的六个普通孩子。这六个贫困地区的孩子奋发图强,为自己、为家乡架起了一座通向世界的桥梁。六个孩子的亮相告诉我们
- A. 可以等待下一次世界杯的好运降临  
B. 要走向世界就必须成就一番大事业  
C. 依靠别人的支持才能走出国门展现自己  
D. 每个人都可以通过努力走上世界大舞台
14. 《中华人民共和国职业分类大典》将职业结构分为 8 个大类、75 个中类、434 个小类、1481 个职业。随着新经济业态的出现,无人机飞手、电子竞技师、私人健身教练等新兴职业也应运而生。这告诉我们
- A. 人的一生多数时间要在选择中度过  
B. 丰富多彩的职业提供了多样化选择  
C. 选择从事了什么职业就一定成功  
D. 选择职业只需考虑自己的兴趣爱好
15. 在社会生活中,“佛系”“以‘废人’自嘲”“这辈子也就这样了”等一些主张,正在潜移默化地影响着部分青少年的生活。作为即将踏上新征程的青少年,我们应该
- A. 遇到挫折和困难时就消极和逃避  
B. 憧憬有美好的未来,只关注结果  
C. 刻意追求自己个性化的生活方式  
D. 努力奋斗,勇往直前,迎接挑战
16. 民国二十六年八月十九日,由邹韬奋主编的时事政治性刊物《抗战》在上海创刊。下列与之直接相关的历史事件是
- A. 九一八事变  
B. 一·二八事变  
C. 西安事变  
D. 七七事变
17. 中国人民政治协商会议第一届全体会议决定成立中华人民共和国,中华人民共和国成立于
- A. 1919 年 10 月 1 日  
B. 1945 年 10 月 1 日  
C. 1949 年 10 月 1 日  
D. 1956 年 10 月 1 日
18. 1952 年 10 月 20 日,在朝鲜上甘岭战役夺取某高地的战斗中,为保证部队攻克高地,用胸膛堵住敌人地堡的机枪射孔而壮烈牺牲的战斗英雄是
- A. 黄继光  
B. 邱少云  
C. 罗盛教  
D. 杨根思
19. 图②是我国“某一时期”取得的经济建设成就示意图。这里的“某一时期”是指



图②

- A. 土地改革时期  
B. 第一个五年计划时期  
C. 大跃进时期  
D. 改革开放时期



20. 全面建设社会主义时期,涌现出了许多以身作则、吃苦在先、享受在后的党的优秀干部,他们当中杰出的代表是
- A. 焦裕禄                      B. 王进喜                      C. 雷锋                      D. 邓稼先
21. 大会标志着中国共产党从根本上冲破了长期“左”倾错误的严重束缚,端正了指导思想,使广大干部和群众从过去盛行的个人崇拜和教条主义中解放出来,在思想上、政治上和组织上恢复和确立了马克思主义的正确路线。这次大会是
- A. 中共七大                      B. 中共七届二中全会  
C. 中共八大                      D. 中共十一届三中全会
22. 1955 年底,同中国建交的国家只有 23 个,到 1965 年底增加了一倍多。这些外交成就的取得得益于
- A. 第 26 届联合国大会的召开                      B. 亚太经合组织会议的召开  
C. 万隆会议的召开                      D. 联合国贸易和发展会议的召开
23. 下列科技成果,标志着新中国在医学领域取得巨大成就的是
- A. 提出“自然选择”的学说                      B. 发现了青蒿素  
C. 用自制显微镜发现“细胞”                      D. 发现了青霉素
24. 下列能代表法国资产阶级革命发展进程的历史线索是
- A. 处死国王→建立共和国→封建势力复辟  
B. 战争爆发→宣告独立→颁布宪法  
C. 制宪会议当权→处死国王→雅各宾派当权  
D. 推翻实权派→实行改革→制定宪法
25. “19 世纪上半期,随着工业革命的深入发展,大机器生产逐渐取代了工场手工业,生产力极大提高,资本主义迅速发展,社会财富日益增多,但给社会财富的制造者——工人,带来的却是巨大的伤害和灾难。资本家延长劳动时间,提高劳动强度,降低工人工资,把工人推向了贫困的深渊。”通过对这段史料的分析,我们可以提取到的历史基础知识是:马克思主义诞生的
- A. 经济基础                      B. 阶级基础                      C. 理论来源                      D. 实践基础
26. 他为俄罗斯打开了“面向欧洲的窗户”,将一个守旧的国家推上了改革的道路,但与此同时又在相当程度上隔断了这个民族和自己历史的联系。他是
- A. 亚历山大二世                      B. 伊凡四世                      C. 尼古拉二世                      D. 彼得一世
27. “由于这位科学家证明了地上的力学也能应用于天上的星球……人们由此发现,原来整个错综复杂、扑朔迷离的自然界,不过是一个按某种法则运转的巨大的机械装置,而其中并没有上帝的地盘。”材料中的“某种法则”指的是
- A. 地心说                      B. 万有引力 and 运动三定律  
C. 微积分学                      D. 广义相对论
28. 第一次世界大战中有“绞肉机”之称的战役发生在
- A. 欧洲东线战场                      B. 欧洲南线战场  
C. 欧洲西线战场                      D. 欧洲北线战场

29. 第二次世界大战后, 亚非拉民族独立浪潮改变着世界的面貌。下列关于亚非拉民族独立运动的说法, 正确的是
- A. 纳赛尔发动政变, 推翻傀儡政权, 建立埃及共和国
- B. 尼赫鲁号召印度人民开展非暴力不合作运动
- C. 1961 年, 非洲有 17 个国家获得独立, 这一年因此被称为“非洲年”
- D. 1999 年, 巴拿马正式收回苏伊士运河的主权
30. 1949 年 9 月“西德”成立, 10 月“东德”成立, 这标志着
- A. 两极格局形成
- B. 欧洲冷战对峙的局面基本形成
- C. 欧盟成立
- D. 出现了多极化的发展趋势

## 第 II 卷 (学科综合题 共 90 分)

### 历史 (共 45 分)

二、材料解析题: 本大题共 2 小题: 第 31 小题 17 分, 第 32 小题 16 分, 共 33 分。

31. (17 分) 阅读材料, 回答下列问题。

**材料一** 我们的外交大失败了! 山东大势一去, 就是破坏中国的领土! 中国的领土破坏, 中国就亡了! 所以我们学界今天排队到各公使馆去要求各国出来维持公理, 务望全国工商各界, 一律起来设法开国民大会, 外争主权, 内除国贼。中国存亡, 就在此一举了!

——《北京学界全体宣言》(北大学生罗家伦起草)

**材料二** 实际上, 五四运动之所以首先是一次学生运动, 或者说青年的运动, 就是因为所有的社会因素最后都作用于青年学生的心理状态, 并成为新文化作用于社会力量的枢纽所在。有了这个枢纽, 新文化的影响才迅速达到商界、工团, 并渐次及于农村社会。

——邓秉元《新文化运动百年祭》

**材料三** “陈独秀是五四时期的总司令……五四时期, 这个运动实际上是他领导的, 他与周围的一群人, 如李大钊是起很大作用的。”

——毛泽东

**【注】** 此处五四运动的概念取广义, 大致指“新文化运动+五四运动+中国共产党的成立”。

- (1) 根据材料一并结合所学知识, 说出五四运动爆发的直接原因及该运动的性质。(4 分)
- (2) 根据材料二并结合所学知识, 用史实说明新文化运动是如何“作用于青年学生的心理状态”的, 并指出五四运动的历史意义。(9 分)
- (3) 结合所学知识, 从五四运动广义概念的角度说出毛泽东认为“陈独秀是五四时期的总司令”的原因。(4 分)

32. (16分) 阅读材料, 回答下列问题。

材料一

1562-1563年, 英国人约翰·霍金斯第一次贩奴至美洲。

1631年, 英国在西非建立了第一个贩奴堡垒, 英国政府贩奴活动正式开始。

1670-1776年, 英国贩卖到美洲大陆的奴隶总数超过其他国家贩奴数量的总和。

——据杨瑞《英国奴隶贸易的兴衰》等

材料二 如果没有巨大的技术优势确保帝国的建立, 再强的动机也不能使帝国主义者在世界行使统治权。在整个19世纪, 工业国家发展了高超的运输、通信和战争技术, 使帝国主义者在全世界通行无阻。最重要的运输业创新是蒸汽轮船和铁路。19世纪30年代, 英国海军工程师将工业革命中的蒸汽动力应用于军事, 建造了火力强劲的大型铁甲舰。由于蒸汽舰船可以进入内河航行很远, 它们使帝国主义的势力直抵外国内陆。1842年英国军舰“复仇女神”号进入长江江面, 导致清政府在鸦片战争中失败。不久, 蒸汽动力军舰将欧洲势力带入亚非两洲的内陆。

——摘编自赫伯特·齐格勒《新全球史》

- (1) 根据材料一并结合所学知识, 设计一幅简明的《英国贩奴贸易路线示意图》。(3分)
- (2) 根据材料一并结合所学知识, 说出贩奴贸易的实质, 并概括英国政府正式开始贩奴活动具备的国际国内条件。(6分)
- (3) 根据材料二并结合所学知识, 说出清政府战败后于1842年被迫与英国签订的条约名称, 并列举该条约中使英国“动机”得以初步达成的相关内容。(3分)
- (4) 综上所述, 分析“英国贩奴贸易→工业革命→鸦片战争”三个历史事件之间的内在关联。(4分)

三、综合问答题: 本大题共1小题; 第33小题12分, 共12分。

33. (12分) 阅读材料, 结合所学知识回答下列问题。

材料

20世纪二、三十年代美国大事记(部分)

- |             |                            |
|-------------|----------------------------|
| ①1928年      | 国民生产总值达970亿美元。             |
| ②1929年      | 胡佛当选美国总统, 推行“自由放任”的经济政策。   |
| ③1929-1933年 | 国民生产总值从1039亿美元逐年下降至560亿美元。 |
| ④1933年      | 罗斯福当选美国总统, 实施“ <u>A</u> ”。 |
| ⑤1933-1939年 | 国民生产总值从560亿美元上升至913亿美元。    |

【注】胡佛的“自由放任”的经济政策体现的是“自由放任”理论的观点。“自由放任”理论适应18世纪资本主义发展的需要, 由重农学派首先提出, 亚当·斯密竭力倡导, 19世纪英法经济学家继续加以宣传和发扬。“自由放任”理论认为政府不应该干涉经济活动, 经济应该留给一只“看不见的手”来自动调节, 这只“看不见的手”就是市场。听任资本主义自发力量发挥作用, 能使经济自然调节, 保持均衡。

- (1) 影响材料中③处美国国民生产总值逐年下降的历史事件是什么? 说出该历史事件的发生与胡佛推行“自由放任”的经济政策有无关系, 并说明理由。(6分)
- (2) 请将材料中④处的“A”补充完整, 并说出它的特点。(4分)
- (3) 综上所述, 你得到什么启示?(2分)



## 道德与法治 (共 45 分)

四、请你参与：请按题目要求，完成参与任务。第 34—35 小题，每小题 4 分，本大题共 8 分。

34. 为打赢扫黑除恶专项斗争，铲除黑恶势力土壤，某市公安局开通了举报电话、邮箱、微信公众号等平台，发动市民举报涉黑涉恶犯罪和黑恶势力的“关系网”“保护伞”“黑后台”。

阅读材料后请参与完成：

(1) 市民举报的行为体现公民参与民主生活的形式是：\_\_\_\_\_▲\_\_\_\_\_。

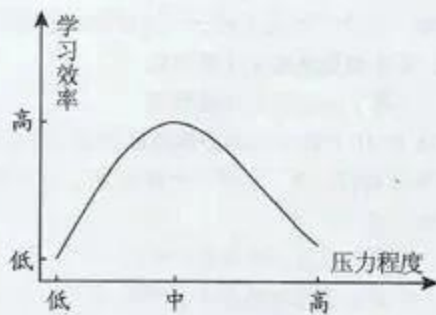
(2) 请再举两例公民依法行使民主权利可以参与的公共事务：

\_\_\_\_\_▲\_\_\_\_\_；\_\_\_\_\_▲\_\_\_\_\_。

35. 认真阅读图③、图④。



图③



图④

请你归纳：对学习压力正确、全面的认识是：\_\_\_\_\_▲\_\_\_\_\_

\_\_\_\_\_▲\_\_\_\_\_。

五、请你回答：回答时紧扣题意，简明扼要。第 36—37 小题，每小题 7 分，本大题共 14 分。

36. 国家主席习近平在 2018 年生态文明贵阳国际论坛年会的贺信中指出，生态文明建设关乎人类未来……中国高度重视生态环境保护，倡导人与自然和谐共生，坚持走绿色发展 and 可持续发展之路。

阅读材料，结合所学知识回答：

(1) 建设生态文明需要坚持什么发展理念？(2 分)

(2) 请你描述一下建设美丽中国的时代图景。(5 分)

37. 亚洲文明对话大会开幕式上, 习近平主席发表主旨演讲指出, 如果人类文明变得只有一个色调、一个模式了, 那这个世界就太单调了, 也太无趣了! 文明只有姹紫嫣红之别, 但绝无高低优劣之分。文明因多样而交流, 因交流而互鉴, 因互鉴而发展。

根据以上材料, 结合所学知识, 请你回答: 我们应该如何加强与其他文明的交流互鉴?

六、请你评析: 请运用所学知识作答, 要求先判断再说明理由。第 38 题, 本大题 9 分。

38. “实现中国梦必须凝聚中国力量, 中国力量是社会创新的重要力量。”

请你对此观点进行评析。

七、实践探究: 请阅读材料后, 结合课本有关知识作答。第 39 题, 本大题 14 分。

39. 材料一: 作为当今国际社会中最具代表性的世界性、政府间国际组织——联合国, 它的宗旨包括: 维护国际和平与安全; 促进国际合作, 以解决国际间属于经济、社会、文化及人类福利性质的国际问题。

材料二:

中美两国处理国际关系的态度

中 国	美 国
在促进自身发展的同时, 推出一系列举措扩大开放, 推动“一带一路”高质量发展, 成功举办博鳌亚洲论坛、亚太经合组织领导人非正式会议、二十国集团领导人峰会等。作为“世界和平建设者, 全球发展贡献者、国际秩序维护者”的国际形象深入人心。	从本国利益出发, 在单边主义和保护主义的轨道上越走越远: 单方面对中国、欧盟、加拿大、墨西哥等推行贸易“霸凌”政策, 接连退出伊核协议、联合国人权理事会、《维也纳外交关系公约》, 万国邮政联盟等一系列国际多边组织和协定, 给全球发展带来剧烈冲击和震荡。

材料三: 近年来, 越来越多的中国青年走向国际组织, 致力于创造一个更美好的世界, 积极推动全球性问题的解决: 在联合国的“中国角”宣传构建人类命运共同体; 积极参加世界卫生组织的志愿者服务活动……中国青年正以自己的力量改变着世界!

根据材料, 联系所学知识, 结合实际, 完成以下探究任务:

- (1) 材料一提到的一些国际问题已经发展成为关系人类生存、制约人类发展、亟待解决的全球性问题。请列举两例全球性问题。(4 分)
- (2) 阅读材料二, 对比中美两国处理国际关系的态度有何异同。(6 分)
- (3) 结合材料三, 学校将组织“构建人类命运共同体 创建未来美好新世界”模拟联合国活动, 你作为中国代表参会, 请从本大题第 (1) 小题的回答中选择一个问题, 向联合国提出两点合理化建议。(4 分)



## 贵阳市2019年初中毕业生学业（升学）考试

## 道德与法治学科参考答案

一、请你选择：第1—15小题，每小题2分，本大题共30分。

题号	1	2	3	4	5	6	7	8	9	10	11	12	13	14	15
答案	C	D	A	B	C	B	A	D	B	A	C	A	D	B	D

四、请你参与：第34—35小题，每小题4分，本大题共8分。

34. (1) 民主监督。(1分)

(2) 答题要点：参与城市天然气价格调整听证会；在政府公众号等平台提意见和建议；对社会公示的内容提出异议；加入学生会参与学生事务的自主管理等。(3分)

35. 答题要点：在学习感受到压力是正常的，我们要正确处理好学习和压力的关系；没有压力、压力过大都不利于学习，适度的学习压力有助于提高学习效率。(4分)

五、请你回答：第36—37小题，每小题7分，本大题共14分。

36. (1) 坚持创新、协调、绿色、开放、共享的发展理念。(2分)

(2) 美丽中国，不仅是山清水秀、天蓝地绿，而且是留住乡愁、守望相助的生命家园。走绿色发展道路，建设资源节约型、环境友好型社会，实现经济繁荣、生态良好、人民幸福，这就是建设美丽中国的时代图景。(5分)

37. 我们要学习和借鉴人类文明的一切优秀成果，坚持以我为主，兼收并蓄；积极主动地与世界各国交往，从不同文明中寻求智慧、汲取营养，不仅有助于自身文明的发展，而且能够推动世界文明的进步，与其他文明携手解决人类共同面临的各种问题；对其他文明的学习，我们不能只满足于欣赏物件的精美，更应该领略其中蕴含的人文精神。(7分)

六、请你评析：第38题，本大题9分。

38. 此观点片面。(1分)

实现中国梦必须凝聚中国力量，中国力量就是全国各族人民大团结的力量。人民是历史的创造者，是梦想的实现者。人民有信仰，民族有希望，国家有力量。(3分)

企业是社会创新的重要力量。提升创新能力是企业持续发展之基、市场制胜之道。大国重器一定要掌握在自己手里，核心技术不是别人赐予的，企业不能只是跟着别人走，而必须自强奋斗、敢于突破。(4分)

因此，实现中国梦必须凝聚中国力量，而企业是社会创新的重要力量。(1分)

七、实践探究：第39题：本大题14分。

39. (1) 答题要点：世界面临的不稳定性不确定性突出；世界经济增长动能不足；各国之间贫富分化日益严重；恐怖主义等。(4分)

(2) 答题要点：

不同点：

中国：坚持合作共赢。主张在促进自身发展的同时，倡导在全球发展中要集思广益、各施所长、各尽所能；与其他国家共享发展机遇，让发展的成果更多更公平地惠及其他国家。(2分)

美国：坚持美国优先，不顾其他国家的利益和人类长远的利益；在国际活动中我行我素，实质上是霸权主义和强权政治的体现。(2分)

相同点：

两国处理国际关系的态度都是从本国发展需要出发，为本国利益服务；两国的态度都会对国际社会产生巨大的影响。(2分)

(3) 答题要点：

示例一：

问题：世界经济增长动能不足

建议：各国政府积极寻求新的经济增长点，积极推动技术创新与新兴产业的发展，培育经济发展新动能；各个国家扩大开放，合作共赢，共享发展机遇和发展成果。(4分)

示例二：

问题：各国之间贫富分化日益严重

建议：世界各国共同努力，通过投资、提供技术人才支持，促进贫困国家和地区经济发展；联合国采取有效行动，发动发达国家对贫困国家和地区加强人道主义援助。(4分)

# 贵阳市2019年初中毕业生学业（升学）考试

## 历史参考答案及评分说明

一、请你选择：本大题第16-30小题为历史学科选择题，每小题2分，共30分。

题号	16	17	18	19	20	21	22	23	24	25	26	27	28	29	30
答案	D	C	A	B	A	D	C	B	C	A	D	B	C	A	B

二、材料解析题：本大题共2小题；第31小题17分，第32小题16分，共33分。

31. (17分)

(1) 直接原因：中国在巴黎和会上的外交失败（2分）；

性质：五四运动是一次彻底地反对帝国主义和封建主义的爱国运动（2分）。

(2) 史实说明：①新文化运动代表人物陈独秀、李大钊、鲁迅等多任教于北京大学，他们热情宣传西方的民主与科学思想，猛烈抨击中国传统的旧道德和旧文化（2分）；

②《新青年》和北京大学成为新文化运动最主要的阵地（2分）；

③在新文化运动的倡导下，白话文作为新文学的语言，逐渐普及开来，促进了民主与科学思想的宣传（2分）。

意义：①在五四运动中，中国工人阶级开始登上政治舞台，展现了伟大的力量（1分）；

②一些初步接受了马克思主义的知识分子和青年学生，在运动中起了重要的作用（1分）；

③五四运动是中国新民主主义革命的开端（1分）。

(3) 原因：①1915年，陈独秀在上海创办《青年杂志》，并在创刊号上发表《敬告青年》一文，正式吹响了新文化运动的号角（1分）；

②五四运动爆发后，陈独秀亲自起草《北京市民宣言》，号召北京学生、商人、劳工奋起斗争，勇敢地对社会进行根本改造（1分）；

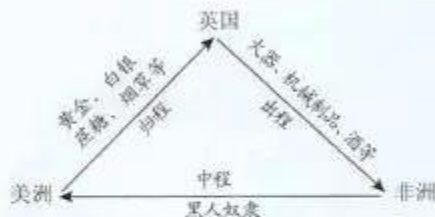
③1920年夏，在共产国际的帮助下，陈独秀在上海建立了中国第一个共产党早期组织（1分）；

④1921年7月，中国共产党第一次全国代表大会选举陈独秀为党的中央领导机构中央局书记（1分）。



32. (16分)

(1) (3分)



《英国贩奴贸易路线示意图》

(2) 实质：殖民扩张与殖民掠夺 (2分)；

条件：国际，打败西班牙无敌舰队，成为海上霸主 (2分)；

国内，资本主义生产方式的确立 (2分)。

(3) 条约名称：中英《南京条约》(1分)；

内容：①开放广州、福州、厦门、宁波和上海五处为通商口岸 (1分)；

②英商进出口货物应纳税款，必须经过双方协议 (1分)。

(4) 内在关联：①英国贩奴贸易实质是殖民扩张与殖民掠夺，它为英国工业革命提供了充足资金和原料 (2分)；②工业革命的进展又为英国殖民扩张与殖民掠夺的进一步扩大提供了保障，英国发动侵略中国的鸦片战争就是英国殖民扩张与殖民掠夺进一步扩大的表现 (2分)。

三、综合问答题：本大题共1小题；第33小题12分，共12分。

33. (12分)

(1) 历史事件：1929-1933年资本主义经济大危机 (2分)； 关系：有 (1分)；

理由：第二次工业革命后，主要资本主义国家出现了垄断组织，资本主义由自由资本主义向垄断资本主义即帝国主义阶段过渡 (2分)。“自由放任”的经济政策再也不能适应垄断资本主义下的经济发展的需要 (1分)。

(2) A：新政 (2分)； 特点：国家干预经济 (2分)。

(3) 启示：经济理论和经济政策要符合经济发展的需求，要有利于民生的改善，要有利于社会稳定 (任答一点2分)。