

2017年云南省初中学业水平考试

作 废

地理 试题卷

(全卷两个大题,共33个小题,共8页;满分100分,考试用时90分钟)

注意事项:

1. 本卷为试题卷。考生必须在答题卡上解题作答。答案应书写在答题卡的相应位置上,在试题卷、草稿纸上作答无效。
2. 考试结束后,请将试题卷和答题卡一并交回。

第I卷(选择题,共50分)

一、选择题(本大题共25小题,每小题2分,共50分。在每小题给出的四个选项中,只有一项是符合题目要求的。)

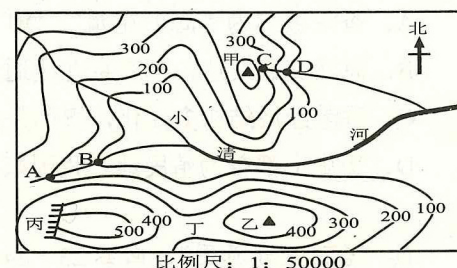
某中学地理社团成员到图示地区进行野外实践活动,读“该地区的等高线地形图”,回答1~2题。

1. 图中最适合开展攀岩运动的地形部位是

- A. 甲 B. 乙
C. 丙 D. 丁

2. 关于该地区的说法正确的是

- A. 甲山峰的海拔可能是400米
B. 若测得甲乙两山峰的图上距离为2厘米,其实地距离为1千米
C. 小清河AB段的流向大致是自东北向西南
D. 河流AB段比CD段的流速快



共享单车出行模式不仅为城市居民的短途出行提供了便捷的服务,更倡导健康、低碳的生活方式。据此完成3~4题。

3. 小锋和家人计划骑共享单车环游滇池,最有利于出行的天气是

- A. B. C. D.

4. 共享单车的推广使用产生的影响主要有

- A. 城市空气质量有所改善 B. 城区交通拥堵加剧
C. 城市长途客流减少 D. 汽油的需求量剧增

5. 中国科研人员利用太阳能技术大幅度降低了海水淡化的成本,下列将受惠于这一成果的地区是

- A. 南亚 B. 西亚 C. 北亚 D. 东南亚

6. 爱护和保护地球上最后一片净土——南极洲,下列做法正确的是

- A. 在南极海域捕鲸 B. 大规模开发南极矿产
C. 把垃圾埋在雪地下 D. 作为科研基地和平使用

读“日本示意图”,回答7~8题。

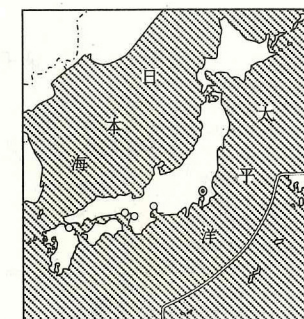
7. 下列关于日本的叙述正确的是

- A. 位于太平洋的东岸
B. 是一个海陆兼备的国家
C. 海岸线曲折,多良港
D. 位于地中海——喜马拉雅火山地震带

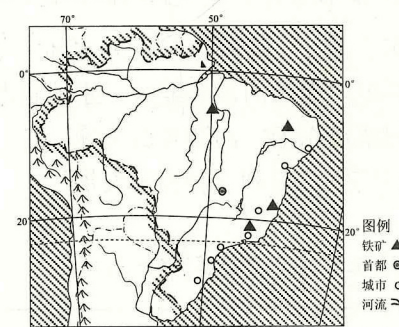
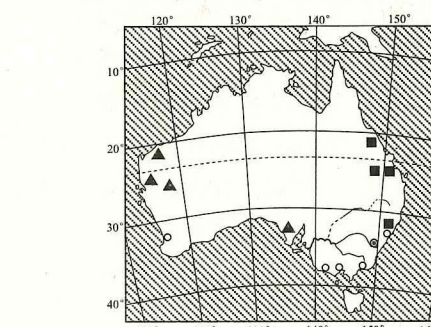
8. 家住上海的小波在港口看到一艘从日本归来的货船,

船上的货物最有可能是

- A. 铁矿石 B. 煤炭 C. 丝绸 D. 电子产品



读“澳大利亚和巴西示意图”,回答9~10题。



9. 下列叙述与澳大利亚无关的是

- A. 世界石油宝库 B. 骑在羊背上的国家
C. 坐在矿车上的国家 D. 世界活化石博物馆

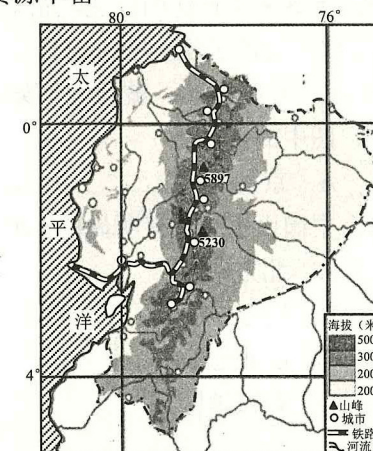
10. 关于两国的共同特征,叙述不正确的是

- A. 首都不是本国最大城市 B. 人口和城市主要分布在东南沿海地区
C. 拥有世界一流的足球队 D. 矿产资源丰富

读“世界某国示意图”,回答11~12题。

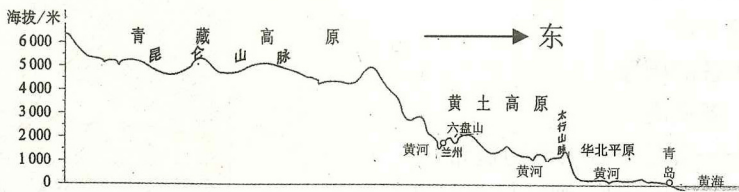
11. 该国人口和城市分布在中部地区的原因正确的是

- A. 地形平坦,农业发达
B. 海拔较高,气候凉爽
C. 河流众多,航运便利
D. 资源丰富,经济发达



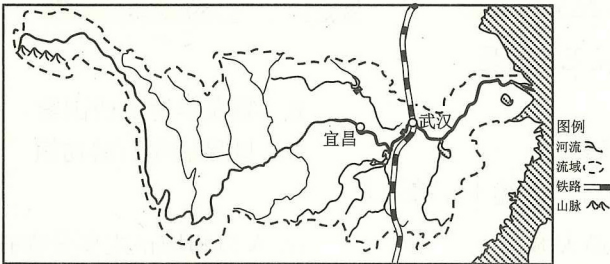
12. 关于该国的叙述, 正确的是
- A. 主要交通线路呈网状分布 B. 地势西部高东部低
- C. 是南美洲国家 D. 境内全部覆盖着热带雨林

读“我国沿北纬 36° 地形剖面图”, 回答 13~14 题。



13. 我国地势的特点是
- A. 西高东低、呈阶梯状分布 B. 西高东低、呈平缓下降趋势
- C. 东高西低、呈阶梯状分布 D. 东高西低、呈平缓下降趋势
14. 下列关于我国地形地势对环境影响的叙述, 不正确的是
- A. 有利于来自海洋的湿润气流深入内陆, 带来丰富降水
- B. 阶梯交界处附近的河段落差大, 水能资源丰富
- C. 众多大河滚滚东流, 沟通东西交通
- D. 平原面积广大, 有利于种植业发展

读“长江流域示意图”, 回答 15~16 题。



15. 下列关于长江的叙述, 正确的是
- A. 发源于巴颜喀拉山脉 B. 注入渤海
- C. 航运发达, 被称为“黄金水道” D. 上游和中游的分界城市是河口
16. 图中的铁路是
- A. 京九铁路 B. 京广铁路 C. 京沪铁路 D. 京哈铁路
17. 中国山水画卷具有明显的地域特征, 画中描绘的景观出现在
- A. 北方地区 B. 南方地区 C. 西北地区 D. 青藏地区



18. 黄土高原地区实现社会、经济可持续发展的关键在于
- A. 大力发展交通运输业 B. 大力发展种植业
- C. 大力发展旅游业 D. 大力加强生态环境建设
19. 下列不属于东北地区特有的地理事物是
- A. 雪莲 B. 黑土地 C. 人参 D. 冰雕

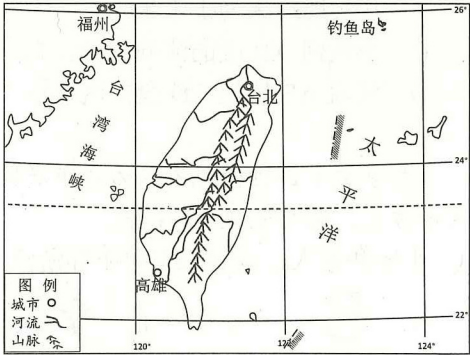
读“青藏地区示意图”, 回答 20~21 题。

20. 青藏地区的农业主要分布在
- A. 藏北高原 B. 海拔较低的河谷地带
- C. 柴达木盆地 D. 昆仑山区
21. “三江源自然保护区”建立的重要意义是
- A. 大量开发当地资源, 提高财政收入
- B. 可以增加牲畜放养量, 提高牧民收入
- C. 改造湿地, 扩大耕地面积
- D. 改善生态环境, 保护珍稀濒危动物
22. 关于香港和澳门的叙述, 正确的是
- A. 香港被称为“海上花园”, 澳门被称为“东方之珠”
- B. 海陆交通发达, 都有京九线通过
- C. 香港经济结构多元化, 澳门是世界的金融中心
- D. 历史上都曾为殖民地, 我国恢复行使主权后均设为特别行政区



读“台湾省示意图”, 回答 23~24 题。

23. 关于台湾岛的叙述, 正确的是
- A. 是我国第一大岛
- B. 所在省级行政区的行政中心是高雄
- C. 气候全部是亚热带季风气候
- D. 地形以平原为主
24. “品铁观音, 香飘两岸”, “拜妈祖庙, 情系一家”, 下列省区与台湾同根同源的是
- A. 江苏 B. 广西 C. 福建 D. 浙江
25. 云南是我国的重要鲜花生产地, 其发展鲜花生产的优势条件是
- ① 热量丰富 ② 光照充足 ③ 地形平坦 ④ 基础设施好
- A. ①② B. ①④ C. ②③ D. ③④



第Ⅱ卷（非选择题，共 50 分）

二、综合题（每空 1 分，共 50 分）

26. 同学们在地理学习的过程中绘制了某个重要节气的“太阳光照图”和“地球公转示意图”，读图回答下列问题。（6 分）

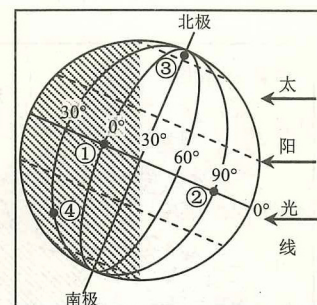


图 1

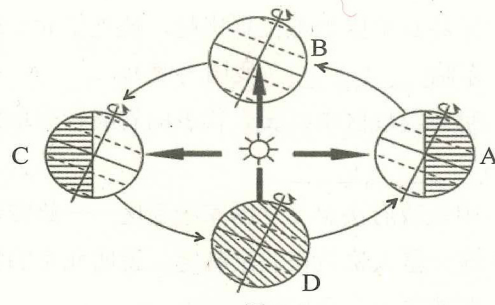
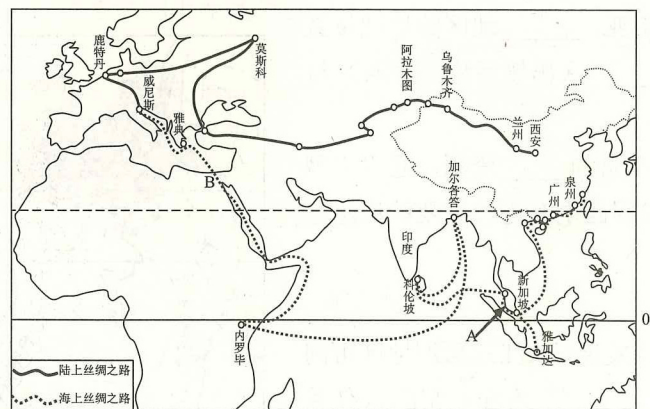


图 2

- (1) 图 1 所示的这一天，地球公转到图 2 中的_____位置，人们将这一天的节气称作_____。
- (2) 图 1 中①②两点先看到日出的是_____，①②两点之间的纬线长度大约是_____千米。
- (3) 图 1 中①②③④四点，有极昼极夜现象的是_____（填序号）。
- (4) 2017 年的夏至日是 6 月 21 日，这天之后直到冬至日，昆明的白昼时间都是逐渐_____（变长或变短）。

27. 中国秉承合作共赢、共同发展的思想，提出了“一带一路”发展战略。读“一带一路示意图”，回答下列问题。（7 分）

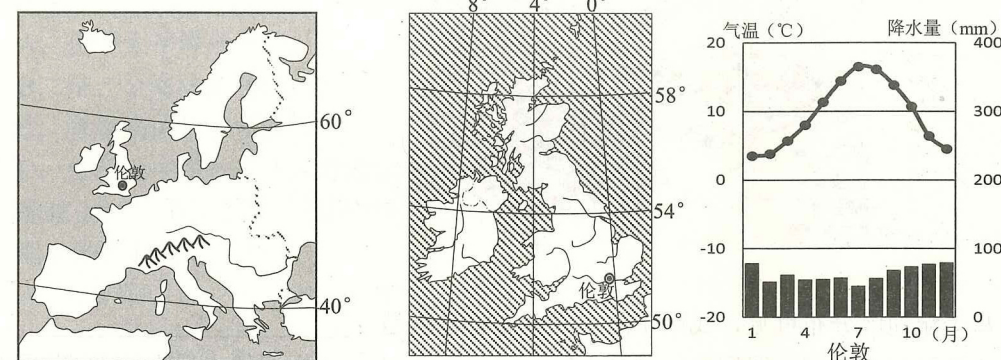


- (1) “陆上丝绸之路经济带”联系的大洲是亚洲和_____。
- (2) “海上丝绸之路”必经的 A 是_____海峡，B 为亚洲和非洲的分界线_____运河。
- (3) 内罗毕是肯尼亚的首都，当地的居民属于_____人种，该国与中国的经济合作在国际上被称为“_____”。
- (4) “陆上丝绸之路经济带”上的城市阿拉木图降水稀少的主要原因是_____。

(5) 灵灵暑假沿“海上丝绸之路”旅行到达印度时，所见所闻可信的是_____。

- A. 街头人群拥挤
- B. 此季节盛行东北季风
- C. 看到了著名的金字塔
- D. 人们穿着厚棉服

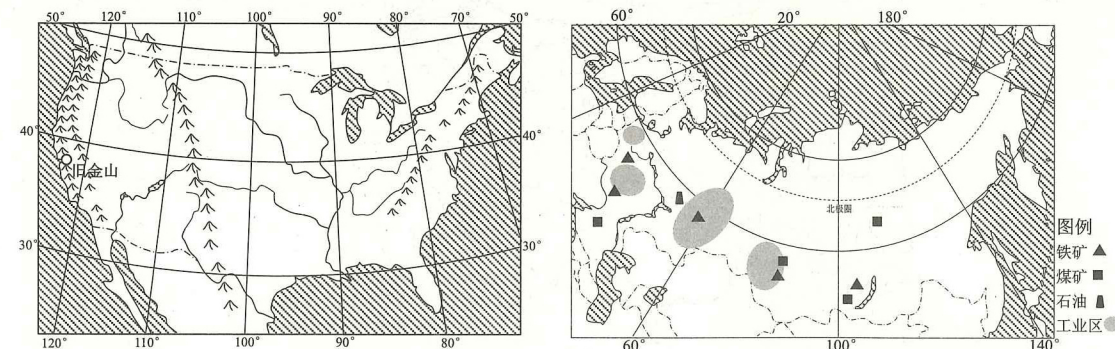
28. 读“欧洲部分区域图”及英国相关资料，回答下列问题。（6 分）



- (1) 欧洲西部大部分位于五带中的_____。
- (2) 图中阿尔卑斯山脉的成因是板块_____（挤压或张裂）形成。
- (3) 欧洲西部旅游业发达，请写出其中一处著名的旅游景点：_____。
- (4) 从东西半球看，英国位于_____半球。
- (5) 英国伦敦的气候特点是_____。
- (6) 关于伦敦所在岛上的河流叙述正确的是_____。

- A. 多长河
- B. 无结冰期
- C. 流量不稳定
- D. 多数为内流河

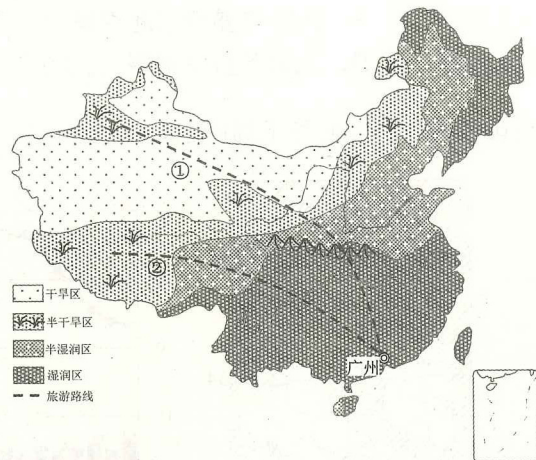
29. 读“美国本土和俄罗斯示意图”，回答下列问题。（6 分）



- (1) 美国本土和俄罗斯都濒临的大洋是_____。
- (2) 美国是世界上农业大国，其发展农业的优势条件有_____。（任答一点）
- (3) 美国旧金山东南部的“硅谷”是全球著名的_____产业中心。
- (4) 俄罗斯四大工业区建立的基础是_____。
- (5) 沟通俄罗斯东、西部的主要交通运输方式是_____。
- (6) 关于两国叙述正确的是_____。

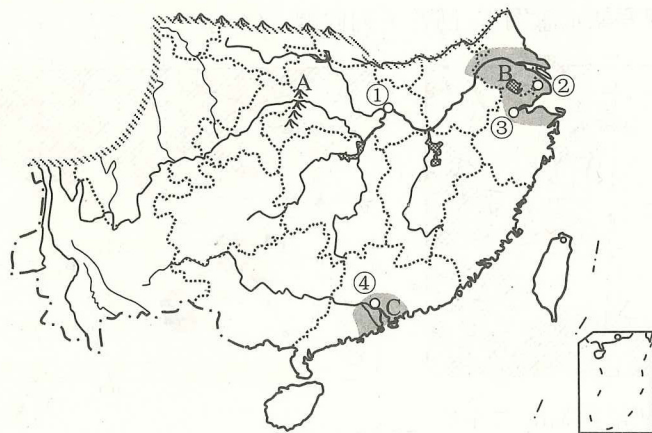
- A. 美国地跨亚欧两洲
- B. 俄罗斯主要气候类型为温带海洋性气候
- C. 美国本土地形以山地为主
- D. 俄罗斯分布有面积广阔的亚寒带针叶林

30. 读“我国干湿地区分布示意图”，回答下列问题。(6分)



- (1) 从干湿地区分布可见，我国年降水量分布总趋势是_____。
- (2) 我国湿润地区和半湿润地区的分界线大致与_____一线一致。从因地制宜发展农业的角度考虑，半干旱地区适宜发展_____。
- (3) 新疆发展绿洲灌溉农业的不利条件是_____。
- (4) 两条旅游路线中，经过我国地势三级阶梯的是_____。(填序号)
- (5) 广州的小莉同学想利用暑期领略丝路风情，游览天山风光，她应该选择的旅游路线是_____。(填序号)

31. 读“我国南方地区示意图”，回答下列问题。(6分)



- (1) 图中 A 山脉以东的地形区是_____，该地区的油料作物主要是_____。
- (2) 港珠澳大桥是连接香港、珠海和澳门的跨海大桥，建成后有利于_____地区的发展。(填字母)
- (3) ①②③④四城市中，是我国最大城市、最大港口，也是国际经济、金融、贸易中心的是_____。(填序号)
- (4) 夏秋季节，长江中下游地区频繁发生的气象灾害是_____。

(5) 下列地理事物和现象，属于南方地区的一组是_____。

- A. 赛龙舟 鱼米之乡 B. 坎儿井 哈密瓜
C. 黑土地 窑洞 D. 日光城 青稞酒

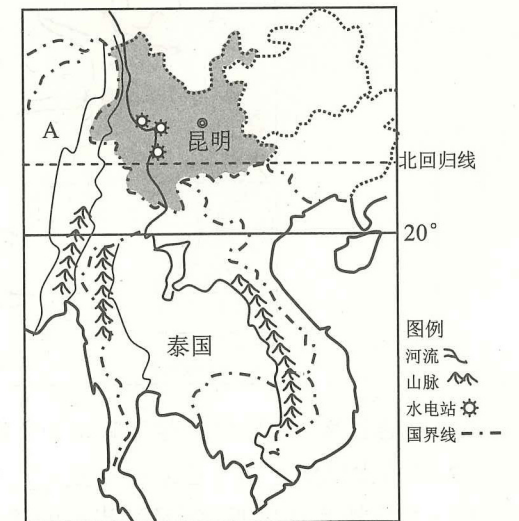
32. 读“京津冀地区示意图”，回答下列问题。(5分)

- (1) 京津冀地区地理位置优越，地处华北平原，东临_____ (我国内海)。
- (2) 京津冀地区中“冀”代表的省级行政单位是_____。
- (3) 中央政府决定设立国家级新区——雄安新区，这一重大决策在北京制定，说明北京的城市职能之一是全国的_____。
- (4) 随着一些非首都核心功能部门将迁往雄安新区，这对北京的影响说法错误的是_____。
A. 交通拥挤状况将有所减轻
B. 政治中心职能将大幅度降低
C. 城市空气质量将进一步改善
D. 住房紧张状况将有所缓解
- (5) 京津冀地区水资源短缺，请对未来雄安新区水资源的利用提出一条合理建议：_____。



33. 读“世界局部地区示意图”，回答下列问题。(8分)

- (1) 云南具有面向南亚、_____地区的地理位置优势，通过_____ (出境后称湄公河) 与多国水路相连。
- (2) 云南大力开发丰富的_____资源，建设大型水电站，成为我国西电东送的主要能源基地之一。
- (3) 图中邻国 A 是_____。
- (4) 为加快云南经济发展，长江三角洲地区可向云南提供_____方面的帮助。(任答一点)
- (5) 西双版纳的傣族人民，住竹楼、着短衣长裙，是因为要适应当地_____的气候特征。
- (6) 由图可知中南半岛的地形特点是_____。
- (7) 泰国居民以_____为主食。



2017 年云南省初中学业水平考试

地理参考答案及评分标准

第 I 卷（选择题，共 50 分）

一、选择题（每题 2 分，共 50 分）

题号	1	2	3	4	5	6	7	8	9	10
答案	C	B	D	A	B	D	C	D	A	C
题号	11	12	13	14	15	16	17	18	19	20
答案	B	C	A	D	C	B	B	D	A	B
题号	21	22	23	24	25					
答案	D	D	A	C	A					

第 II 卷（非选择题，共 50 分）

二、综合题（每空 1 分，共 50 分）

26. (6 分)
 (1) C 夏至日 (2) ② 1 万 (3) ③ (4) 变短
27. (7 分)
 (1) 欧洲 (2) 马六甲 苏伊士 (3) 黑色 南南合作
 (4) 深居内陆，距海洋远，海洋湿润气流不易到达（言之有理酌情给分） (5) A
28. (6 分)
 (1) 北温带 (2) 挤压 (3) 法国艾菲尔铁塔、卢浮宫；英国大本钟；荷兰风车；意大利罗马古斗兽场等（任答一点即可） (4) 东
 (5) 全年温和湿润（冬季温和，夏季凉爽，全年降水分配均匀） (6) B
29. (6 分)
 (1) 太平洋 (2) 气候适宜；耕地面积广大；灌溉水源充足；工业发达等（任答一点即可，言之有理酌情给分） (3) 高新技术
 (4) 矿产资源丰富 (5) 铁路运输 (6) D
30. (6 分)
 (1) 由东南沿海向西北内陆递减 (2) 秦岭—淮河 畜牧业
 (3) 灌溉水源不足（言之有理酌情给分） (4) ② (5) ①
31. (6 分)
 (1) 长江中下游平原 油菜 (2) C (3) ② (4) 洪涝 (5) A
32. (5 分)
 (1) 渤海 (2) 河北省 (3) 政治中心 (4) B (5) 节约用水；防治水污染；提高水资源的利用效率；兴修水库（任答一点即可，言之有理酌情给分）
33. (8 分)
 (1) 东南亚 澜沧江 (2) 水能 (3) 缅甸 (4) 资金、技术、先进管理经验、人才（任答一点即可，言之有理酌情给分） (5) 湿热（高温多雨）
 (6) 山河相间、纵列分布 (7) 米饭（米食）